

الأخصاء



الدراسات الاجتماعية الصف ٥ الابتدائي

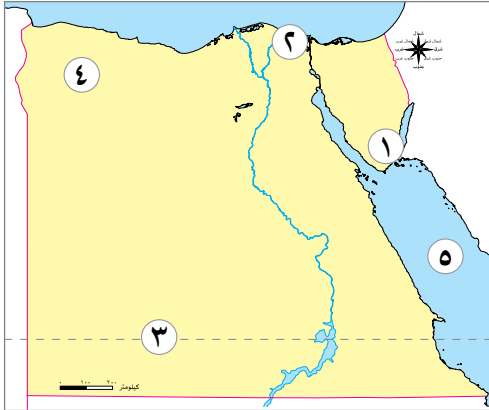
مقترح النماذج الاسترشادية للفصل الدراسي الأول

العام الدراسي 2023-2024

نموذج (١)

السؤال الأول

(١) أمامك خريطة صماء لمصر، اكتب مدلول الأرقام التالية:



- ١ محمية
- ٢ فرع
- ٣ مدار
- ٤ هضبة
- ٥ البحر

(ب) بم تفسر..؟

- تنوع النباتات الطبيعية في مصر.

السؤال الثاني

(١) اكتب ما تشير إليه العبارات الآتية:

- ١ صناعة تسعى الدولة إلى إدراجها ضمن قائمة التراث العالمي لمنظمة اليونسكو. (.....)
- ٢ معدن يستخدم في صناعة الأسمدة الكيماوية والمبيدات الحشرية. (.....)
- ٣ عصر سمي نسبة إلى ما شيده الملوك من أهرامات ضخمة. (.....)
- ٤ يشير إلى عدد الأشخاص الذين يريدون شراء المنتج. (.....)

(ب) قارن بين: الإقليم الصحراوي الحار وإقليم البحر المتوسط في مصر (من حيث خصائصهما المناخية - أهم المدن المصرية الواقعة فيهما)

المصرية الواقعة فيهما)


وجه المقارنة	الإقليم الصحراوي الحار	إقليم البحر المتوسط
الخصائص المناخية
أهم المدن المصرية الواقعة فيهما

السؤال الثالث

(١) اكتب كلمة (صواب) أمام العبارة الصحيحة، وكلمة (خطأ) أمام العبارة غير الصحيحة:

- ١ البيع هو إعطاء السلع والخدمات مقابل الحصول على عملة تستخدمها الدولة. ()
- ٢ تأتي مصر في المركز التاسع عالمياً في الإنتاج السمكي. ()
- ٣ ساعدت بحيرة ناصر على تخزين مياه النيل للاستفادة منها في سنوات الجفاف. ()

(ب) الصورة التي أمامك تعبر عن إحدى حالات الميزان التجاري، ادرسها، ثم أجب:



١ الميزان التجاري في حالة (العجز - الفائض)

٢ ما المقصود بالميزان التجاري؟

السؤال الرابع

(١) اختر الإجابة الصحيحة مما بين القوسين:

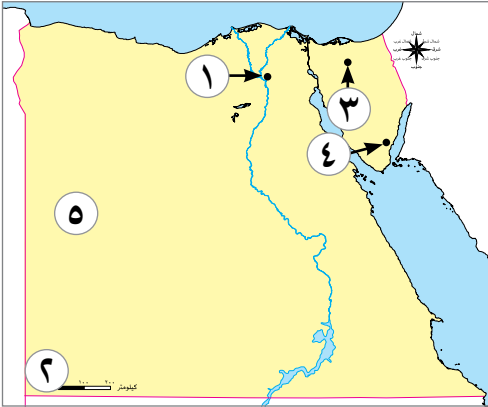
- ١ تصل مياه نهر النيل إلى منخفض الفيوم عن طريق ترعة
(الإسماعيلية - المريوطية - بحريوسف - بحر قزوين)
- ٢ ساعد المصري القديم في صناعة الأواني والحلى
(نهر النيل - الثروات المعدنية - الموقع الجغرافي - الحكومة المركزية)
- ٣ من أهم الحيوانات المهددة بالانقراض في مصر
(الغزلان - النعام - الأبقار - الخراف)
- ٤ أى من الإحداثيات التالية درجته ٢٣,٥ ؟
(السرطان والجدى - السرطان والاستواء - الجدى والاستواء - الاستواء وجرينتش)
- ٥ المياه العذبة ومصادر الطاقة من الموارد
(النادرة - الحرة - الأولية - الثانوية)
- ٦ الخانكة يوجد بها مدينة صناعية متخصصة في صناعة
(المنسوجات - الخيامية - الدواء - الفخار)

(ب) اكتب نتيجة واحدة لـ: دوران الأرض حول نفسها.

نموذج (٢)

السؤال الأول

(١) أمامك خريطة صماء لمصر، اكتب مدلول الأرقام التالية:



- ١ مدينة لصناعة الجلود
- ٢ جبل
- ٣ منطقة لاستخراج الفحم
- ٤ محمية
- ٥ الصحراء

(ب) ما النتائج المترتبة على...؟ بناء السد العالى بالنسبة لمصر.

السؤال الثانى

(١) أكمل العبارات الآتية بما يناسبها من كلمات:

- ١ يستخدم الفحم فى صناعة
- ٢ يعرف خط الطول الرئيسى بخط
- ٣ تبادل سلعة بسلعة أخرى يسمى نظام
- ٤ مشروع تنمية زراعية يقع فى الجزء الشمالى من الصحراء الغربية

(ب) أمامك صورتان لإحدى الأدوات الزراعية فى مصر، وضح:



(١)

(ب)

- ١ اسم الأداة الزراعية فى الصورة (أ), استخدامها
- ٢ اسم الأداة الزراعية فى الصورة (ب), استخدامها

السؤال الثالث

(١) صوب ما تحته خط :

- ١ بلاد بونت قديماً تسمى حالياً اليمن.
- ٢ اشتهرت مصر قديماً بتصدير الحريير.
- ٣ قناة السويس تعتبر أهم طريق برى في العالم.
- ٤ نظمت الملكة نفرتي رحلة تجارية إلى بلاد بونت.
- ٥ الصناعات القديمة اعتمدت على الآلات الحديثة.

(ب) بم تفسر...؟ تأكل الشواطئ الشمالية لمصر.

السؤال الرابع

(١) اكتب كلمة (صواب) أمام العبارة الصحيحة ، وكلمة (خطأ) أمام العبارة غير الصحيحة :

- ١ ينحدر سطح الصحراء الغربية من جهة الجنوب إلى جهة الشمال. ()
- ٢ ينقسم سطح مصر إلى ثلاث وحدات تضاريسية تتضمن مظاهر تضاريسية مختلفة. ()
- ٣ تتعامد أشعة الشمس في فصل الصيف في مصر على مدار الجدى. ()
- ٤ قديماً كانت كل دولة تتخذ سلعة معينة كعملة لها. ()

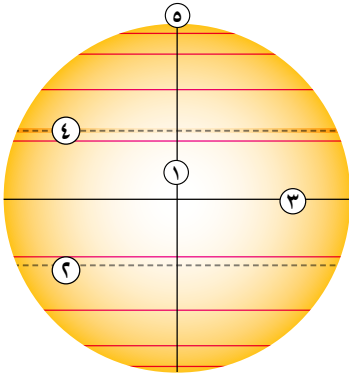
(ب) قارن بين : مملكة الشمال ومملكة الجنوب من حيث (العاصمة - الشعار) :

وجه المقارنة	مملكة الشمال	مملكة الجنوب
العاصمة
الشعار

نموذج (٣)

السؤال الأول

(١) لاحظ الرسم المقابل، ثم اكتب ما يشير إليه كل رقم:



- ١ خط
- ٢ مدار
- ٣ دائرة
- ٤ مدار
- ٥ منطقة القطب

(ب) ما النتائج المترتبة على .. نزول المصري القديم من الهضبة إلى الوادي.

السؤال الثاني

(١) اختر الإجابة الصحيحة مما بين الأقواس:

- ١ سكن المصري القديم قبل نزوله وداى النيل في (المدن - الكهوف - القرى - الأقاليم)
- ٢ أى من الموارد الآتية يوجد بوفرة وبكميات غير محدودة؟ (المياه البحر - مصادر الطاقة - الأراضي الزراعية - النباتات البرية)
- ٣ صناعة تعد إحدى الصناعات الحديثة. (السجاد اليدوى - الأجهزة الكهربائية - الفخار - الخيامية)
- ٤ من أنظمة الري الحديثة الري (بالرش - بالحياض - الدائم - بالفيضان)

(ب) بم تفسر...؟

١ تعاقب فصول السنة الأربعة.

٢ الأهمية الاقتصادية لمعدن المنجنيز في مصر.

السؤال الثالث

(١) اكتب ما تشير إليه العبارات الآتية:

- ١ مجارى كانت تملؤها المياه قديماً، ثم جفت. (.....)
- ٢ عصراهتم فيه الملوك بالتوسع خارج حدود مصر. (.....)
- ٣ خط يقسم الكرة الأرضية إلى نصفين شرقاً وغرباً. (.....)

(.....)

٤ الاختلافات والتحويلات في الأحوال المناخية.

(.....)

٥ المصادر التي لا تنفذ رغم استخدامنا المستمر لها.

(ب) دلل على صحة العبارة التالية: تتعدد استخدامات المياه المالحة.

السؤال الرابع

(١) اكتب كلمة (صواب) أمام العبارة الصحيحة، وكلمة (خطأ) أمام العبارة غير الصحيحة:

()

١ الكافور من النباتات المائية التي تنمو بمصر.

()

٢ دوائر العرض لها أهمية في تحديد الزمن ومعرفة فروق التوقيت.

()

٣ تتميز الصحراء الغربية بانتشار المياه الجوفية.

()

٤ تشكلت الدلتا نتيجة التعرية المائية.

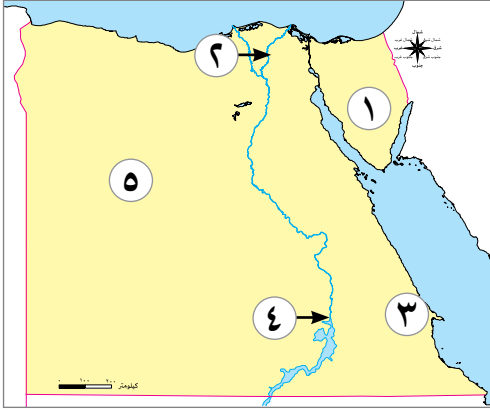
(ب) ما المقصود بـ...؟

١ التنوع البيولوجي.

٢ محمية طبيعية.

نموذج (٤)

السؤال الأول



(١) أمامك خريطة صماء لمصر، اكتب مدلول الأرقام عليها:

- ١ هضبة
- ٢ فرع
- ٣ محافظة يستخرج منها الذهب
- ٤ خزان
- ٥ مشروع زراعى

(ب) ماذا يحدث إذا ..؟ لم يتم حفر قناة السويس.

السؤال الثانى

(١) أكمل العبارات الآتية بما يناسبها من كلمات:

- ١ تعتمد الزراعة في الساحل الشمالى على مياه
- ٢ يصب نهر النيل في
- ٣ ينقسم سطح مصر الى وحدات تضاريسية.
- ٤ القرية الأولى والوحيدة في العالم المتخصصة في زراعة نبات البردى هي قرية

(ب) صنف العوامل المؤثرة على التغير المناخي إلى طبيعية وبشرية في الجدول التالى:

(حرق الوقود الأحفوري - الانفجارات البركانية - استخدام المبيدات - الأنشطة الصناعية)

العوامل البشرية	العوامل الطبيعية
.....
.....
.....

السؤال الثالث

(١) صوب ما تحته خط:

- ١ ارتبطت رحلات الملكة حتشبسوت التجارية بدولة سوريا حالياً.
- ٢ تعد محطة جبل الزيت بمحافظة البحر الأحمر واحدة من أكبر محطات توليد الكهرباء من الشمس.
- ٣ تأتى مصرفى المركز الخامس عالمياً فى الإنتاج السمكى.

٤ يعد البنزين والسولار من مشتقات الغاز الطبيعي.

٥ محطة جبل الزيت واحدة من أكبر محطات تحلية مياه في العالم.

(ب) دلل على صحة العبارة الآتية: للمياه العذبة العديد من الفوائد.

السؤال الرابع

(١) اختر الإجابة الصحيحة مما بين الأقواس:

١ أى من المظاهر التضاريسية الآتية يقع داخل الصحراء الغربية؟

(الجلف الكبير - وادى العلاقي - جبل موسى - هضبة التيه)

٢ تتشابه كل من خطوط الطول ودوائر العرض في أنها تستخدم في تحديد

(المناخ - الوقت - الموقع - السطح)

٣ تقع مدينة الأقصر في مصر ضمن الإقليم

(المدارى - الاستوائى - الصحراوى - الموسمى)

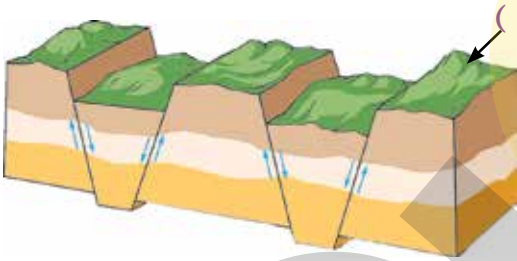
٤ تنتشر في مصر الرمال البيضاء المستخدمة في صناعة الزجاج في

(الصحارى - الوادى - الدلتا - البحار)

(ب) أمامك صورة تعبر عن الحركات الانكسارية، ادرسها، ثم أجب:

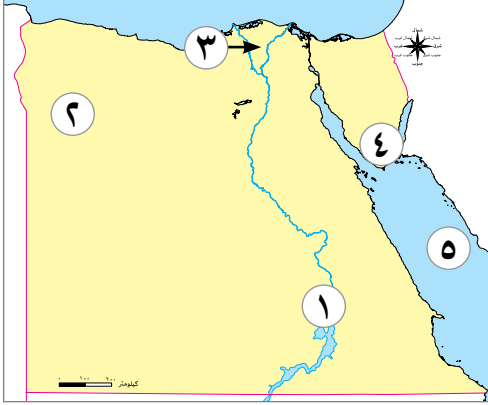
١ يشير رقم (أ) الى (ارتفاع - انخفاض) بعض الصخور.

٢ اذكر الجبال التى تكونت نتيجة الحركات الانكسارية في مصر.



نموذج (هـ)

السؤال الأول



(أ) أمامك خريطة صماء لمصر، اكتب مدلول الأرقام عليها:

- ١ يشير الرقم (.....) إلى جبل سانت كاترين.
- ٢ يشير الرقم (.....) إلى أعلى المدن حرارة في مصر.
- ٣ يشير الرقم (.....) إلى البحر الاحمر.
- ٤ يشير الرقم (.....) إلى واحة سيوة.
- ٥ يشير الرقم (.....) إلى مدينة تشتهر بصناعة الغزل والنسيج.

(ب) ما العلاقة بين ...؟ التغيرات المناخية وصحة الإنسان.

السؤال الثاني

(أ) أكمل العبارات الآتية بما يناسبها من كلمات:

- ١ منطقة يستخرج منها الحديد بالصحراء الغربية
- ٢ تم إنشاء بنك مركزي لكل دولة يكون مسئولاً عن إصدار
- ٣ اكتشف المصري القديم النحاس في عصر
- ٤ تعتبر تربية الدواجن والماشية ضمن النشاط

(ب) حدد أوجه التشابه والاختلاف بين: خطوط الطول ودوائر العرض من خلال الجدول التالي:

دوائر العرض	خطوط الطول	وجه المقارنة
.....	أوجه التشابه
.....	أوجه الاختلاف

السؤال الثالث

(أ) اكتب كلمة (صواب) أمام العبارة الصحيحة، وكلمة (خطأ) أمام العبارة غير الصحيحة:

- ١ يتم توليد الكهرباء من المساقط المائية الصناعية على نهر النيل في مصر. ()
- ٢ استوحى المصريون القدماء العملة الذهبية من العملة الفارسية. ()
- ٣ أصبحت لمصر علاقات تجارية مع معظم دول العالم، مثل إيطاليا، وألمانيا. ()
- ٤ كانت تجارة التوابل تتم من خلال طريق الحرير. ()
- ٥ معدن الذهب يستخدم في صناعة الأسمدة الكيماوية. ()

(ب) بم تفسر...؟ الأهمية الاقتصادية للأودية الجافة.

السؤال الرابع

(١) اكتب ما تشير إليه العبارات الآتية:

- ١ كتل صخرية لها القدرة على تخزين المياه في باطن الأرض. (.....)
- ٢ أول من استفاد من الطاقة الشمسية في تدفئة المنازل. (.....)
- ٣ حركات أصابت الصخور الصلبة وتنتج عنها الجبال. (.....)
- ٤ نباتات تنمو تلقائياً دون تدخل الإنسان. (.....)

(ب) ما المقصود ب...؟

١ البيع.

٢ المقايضة.

الأخصاء



الدراسات الاجتماعية الصف ٥ الابتدائي

الإجابات النموذجية للنماذج الاسترشادية للفصل الدراسي الأول

العام الدراسي 2024-2023

إجابة نموذج (١)

السؤال الأول

(١)

١ نبق.

٢ دمياط.

٣ السرطان.

٤ مارمريكا.

٥ الأحمر.

(ب) بسبب : تنوع المناخ بين الصيف والشتاء - تنوع البيئات المصرية.

السؤال الثاني

(١)

١ (صناعة البردى)

٢ (الفوسفات)

٣ (عصربنة الأهرام)

٤ (الطلب)

(ب)

وجه المقارنة	الإقليم الصحراوي الحار	إقليم البحر المتوسط
الخصائص المناخية	صيفاً: شديد الحرارة خاصة أثناء النهار. شتاءً: شديد البرودة خاصة أثناء الليل. أمطاره نادرة وقد تسقط على شكل سيول.	اعتدال درجات الحرارة. سقوط الأمطار في فصل الشتاء.
أهم المدن المصرية الواقعة فيهما	الأقصر	مرسى مطروح

السؤال الثالث

(١)

١ (صواب)

٢ (خطأ)

٣ (صواب)

(ب)

١ (الفائض)

٢ هو الفرق بين قيمة واردات الدولة وصادراتها.

السؤال الرابع

(١)

١ (بحريوسف)

٢ (الثروات المعدنية)

٣ (الغزلان)

٤ (السرطان والجدي)

٥ (النادرة)

٦ (الدواء)

(ب) حدوث الليل والنهار.

إجابة نموذج (٢)

السؤال الأول

(١)

- ١ الروبيكي.
- ٢ العوينات.
- ٣ جبل مغارة.
- ٤ نبق.
- ٥ الغربية.

(ب) التحكم في تدفق مياه النهر وحماية مصر من خطر الفيضان والجفاف وتوليد الطاقة الكهرومائية.

السؤال الثاني

(١)

- ١ الصلب وبعض الأدوية.
- ٢ جرينتش.
- ٣ المقايضة.
- ٤ مشروع الدلتا الجديدة.

(ب)

- ١ الفأس - تستخدم في تقليب التربة.
- ٢ المذراة - تستخدم في فصل الحبوب عن القش.

السؤال الثالث

(١)

- ١ (الصومال)
- ٢ (الكتان)
- ٣ (بحري)
- ٤ (حتشبسوت)
- ٥ (العمل اليدوي)

(ب) بسبب زيادة حدة التغير المناخي وارتفاع منسوب مياه البحر.

السؤال الرابع

(١)

١ (صواب)

٢ (خطأ)

٣ (خطأ)

٤ (صواب)

(ب)

وجه المقارنة	مملكة الشمال	مملكة الجنوب
العاصمة	بوتو	نخب
الشعار	نبات البردى	زهرة اللوتس



إجابة نموذج (٣)

السؤال الأول

(١)

- ١ جرينتش .
- ٢ الجدى .
- ٣ الاستواء .
- ٤ السرطان .
- ٥ الشمالى .

(ب) عرف الزراعة وتربية الحيوانات ، وبنى بيوتاً صغيرة من الطوب اللبن .

السؤال الثانى

(١)

- ١ (الكهوف)
- ٢ (مياه البحر)
- ٣ (الأجهزة الكهربائية)
- ٤ (بالرش)

(ب)

- ١ بسبب دوران الأرض حول الشمس كل ٣٦٥ يوماً وربع يوم .
- ٢ يدخل فى صناعة الصلب والدهانات .

السؤال الثالث

(١)

- ١ (الأودية الجافة)
- ٢ (عصر الدولة الحديثة)
- ٣ (خط جرينتش)
- ٤ (التغير المناخي)
- ٥ (مصادر الطاقة المتجددة)

(ب) صيد الأسماك - استخراج الأملاح مثل ملح الطعام - وسيلة مهمة للنقل البحرى - استخراج البترول والغاز الطبيعى من قاع البحار والمحيطات .

السؤال الرابع

(أ)

١ (خطأ)

٢ (خطأ)

٣ (صواب)

٤ (صواب)

(ب)

١ تنوع الحياة النباتية والحيوانية على كوكب الأرض، وتنوع البيئات التي تعيش فيها.

٢ هي مساحات من الأرض أو المياه تتميز بما تضمه من نباتات أو حيوانات أو أسماك أو ظاهرات طبيعية ذات قيمة ثقافية أو علمية أو سياحية أو جمالية.

إجابة نموذج (٤)

السؤال الأول

(١)

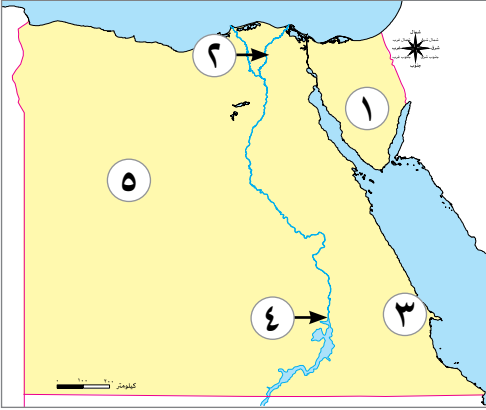
١ التيه.

٢ دمياط.

٣ البحر الأحمر.

٤ أسوان.

٥ مشروع الفرافرة.



(ب) لم يحدث توسع عمراني في محافظات السويس والإسماعيلية وبورسعيد.

السؤال الثاني

(١)

١ الأمطار.

٢ البحر المتوسط.

٣ أربع.

٤ قراموص.

(ب)

العوامل الطبيعية	العوامل البشرية
الانفجارات البركانية	حرق الوقود الأحفوري
	استخدام المبيدات
	الأنشطة الصناعية

السؤال الثالث

(١)

١ (بونت)

٢ (الرياح)

٣ (السادس)

٤ (البترو)

٥ (العين السخنة)

(ب) تستخدم المياه العذبة في المجالات الاقتصادية مثل : الزراعة لرى المحاصيل - صيد الأسماك - مجال السياحة -

صناعة النسيج.

السؤال الرابع

(١)

١ (الجلف الكبير)

٢ (الموقع)

٣ (الصحراوى)

٤ (الصحارى)

(ب)

١ (ارتفاع).

٢ سلاسل جبال البحر الأحمر.

إجابة نموذج (٥)

السؤال الأول

(١)

١. (٤)
٢. (١)
٣. (٥)
٤. (٢)
٥. (٣)

(ب) تضر التغيرات المناخية بصحة الإنسان؛ حيث تؤدي إلى ظهور العديد من الأمراض مثل الملاريا.

السؤال الثاني

(١)

١. الواحات البحرية.
٢. النقود.
٣. المعادن.
٤. الزراعي.

(ب)

وجه المقارنة	خطوط الطول	دوائر العرض
أوجه التشابه	تستخدم خطوط الطول ودوائر العرض في تحديد الموقع.	
أوجه الاختلاف	تحديد الزمن ومعرفة فروق التوقيت بين الأماكن على سطح الأرض	معرفة أحوال المناخ من حيث الحرارة والرياح والأمطار.

السؤال الثالث

(١)

١. (صواب)
٢. (خطأ)
٣. (صواب)
٤. (خطأ)
٥. (خطأ)

(ب) تستثمر في إنشاء الطرق - وتستخدم كمجاري مائية عند حدوث السيول.

السؤال الرابع

(١)

- ١ (الخزانات الجوفية)
- ٢ (المصريون القدماء)
- ٣ (الحركات الانكسارية)
- ٤ (النباتات الطبيعية)

(ب)

- ١ إعطاء السلع والخدمات مقابل الحصول على عملة تستخدمها الدولة.
- ٢ تبادل السلع والخدمات بدون استخدام النقود.